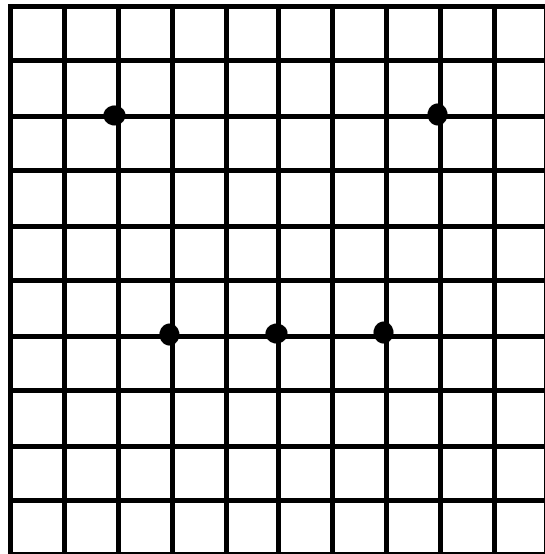
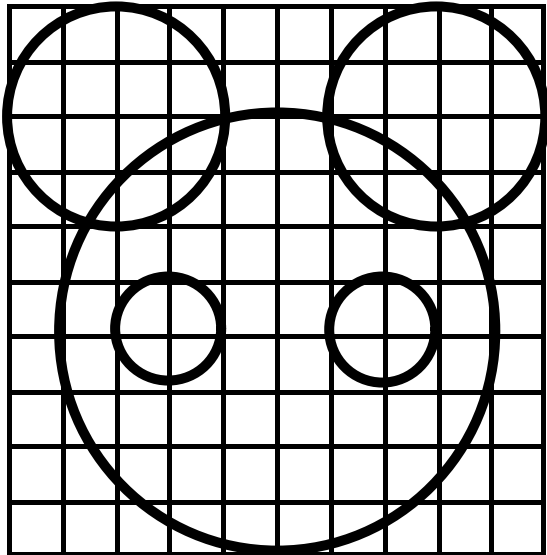


LE COMPAS COMME INSTRUMENT
DE TRAÇAGE DE LIGNE COURBE

1) Utilise ton compas pour reproduire ce dessin. Les points noirs t'indiquent où tu dois poser la pointe du compas.



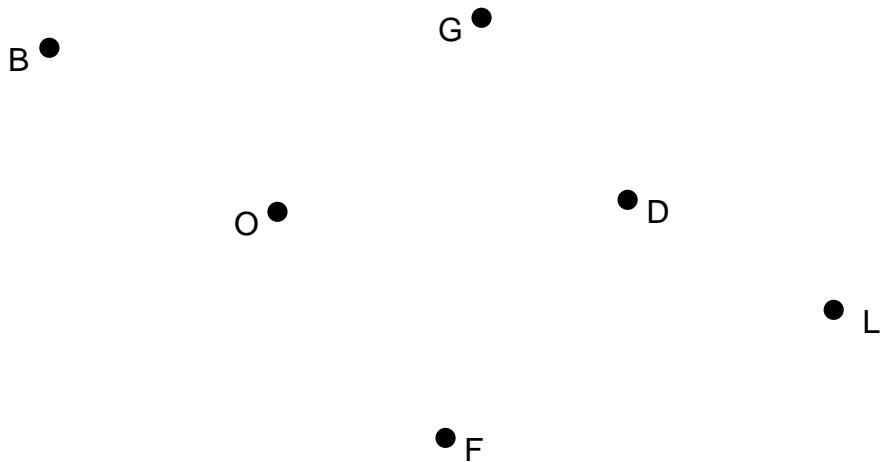
2) Suis les instructions et réponds aux questions.

 Trace un cercle de centre **O** et qui passe par le point **G**.

* Quels sont les points situés sur le cercle ?

 Trace ensuite un cercle de centre **D** et qui passe par le point **L**.

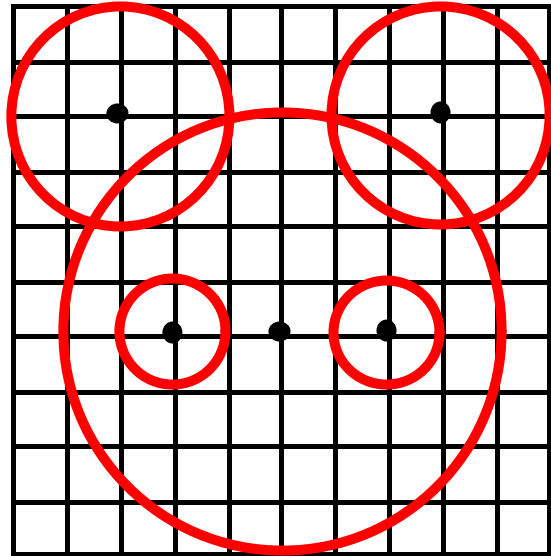
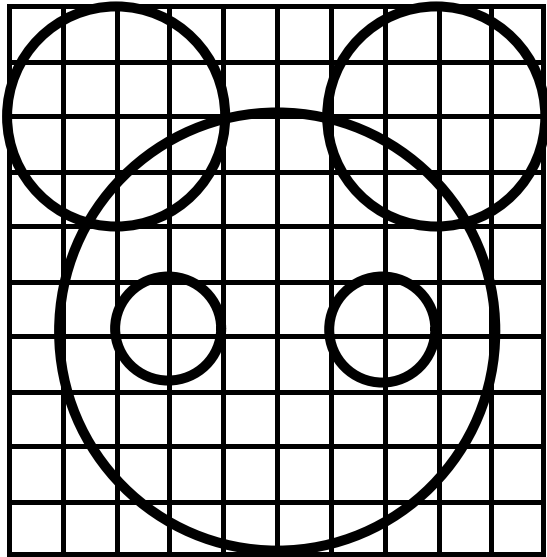
* Quel point se trouve sur les deux cercles ?



LE COMPAS COMME INSTRUMENT
DE TRAÇAGE DE LIGNE COURBE

SOLUTION

1) Utilise ton compas pour reproduire ce dessin. Les points noirs t'indiquent où tu dois poser la pointe du compas.



2) Suis les instructions et réponds aux questions.

 Trace un cercle de centre **O** et qui passe par le point **G**.

* Quels sont les points situés sur le cercle ? **les points B et F**

 Trace ensuite un cercle de centre **D** et qui passe par le point **L**.

* Quel point se trouve sur les deux cercles ? **le point G**

