


## LE CARRÉ

**1) En te servant des points ci-dessous, trace deux carrés.**

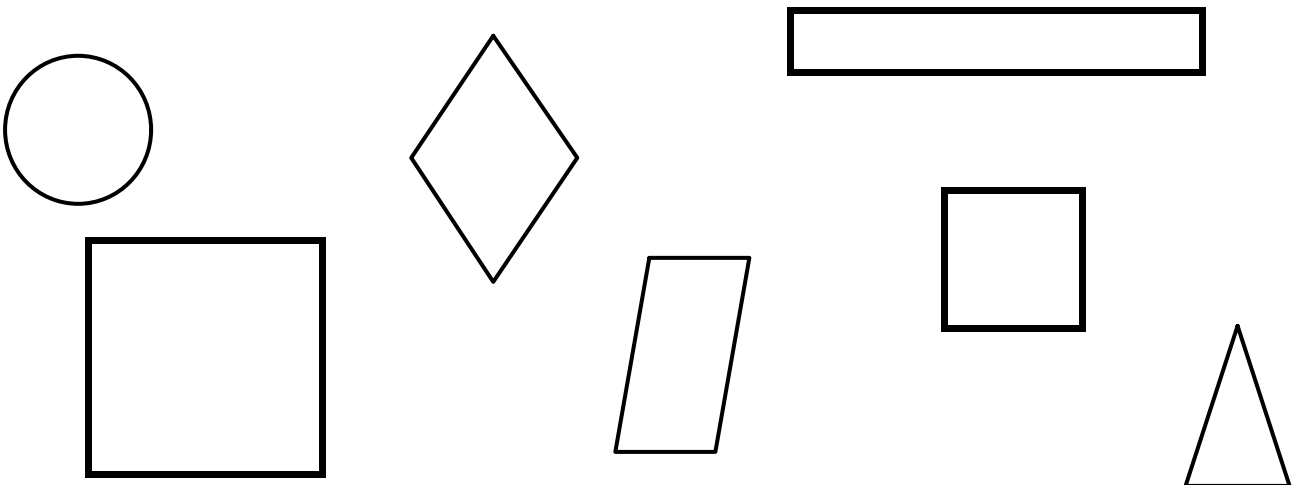


**2) Complète le texte ci-dessous avec les mots de la liste.**

*angles droits - côtés - sommets*

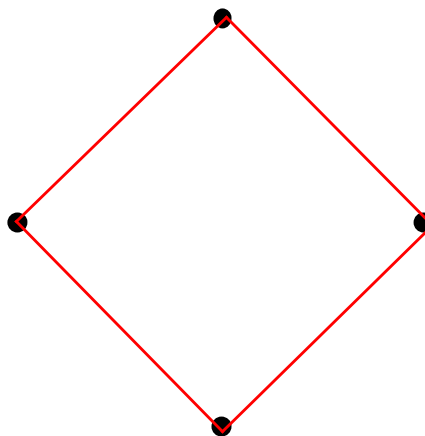

Le carré est un polygone qui possède 4 ..... qui ont la même longueur. Une autre particularité du carré est qu'il a 4 ..... dont les pointes s'appellent des .....

**3) Colorie les figures qui sont des carrés.**



LE CARRÉ  
**SOLUTION**

1) En te servant des points ci-dessous, trace deux carrés.



2) Complète le texte ci-dessous avec les mots de la liste.

Le carré est un polygone qui possède 4 **côtés** qui ont la même longueur. Une autre particularité du carré est qu'il a 4 **angles droits** dont les pointes s'appellent des **sommets**.

3) Colorie les figures qui sont des carrés.

