

LECTURE DE L'HEURE

1) Indique sur quel chiffre est placée la grande aiguille quand il est...

9 heures : sur le 9
 sur le 1
 sur le 12




9 heures 30 : sur le 9
 sur le 3
 sur le 6


9 heures 15 : sur le 9
 sur le 6
 sur le 3

9 heures 10 : sur le 9
 sur le 2
 sur le 10


2) Relie chaque horloge avec son étiquette.




1 0 h 1 5



0 3 h 0 5




0 1 h 2 5




0 4 h 0 0


3) Quelle heure est-il ?




.. .. h



.. .. h



.. .. h



.. .. h

LECTURE DE L'HEURE
SOLUTION

1) Indique sur quel chiffre est placée la grande aiguille quand il est...

9 heures : sur le 9
sur le 1
sur le 12




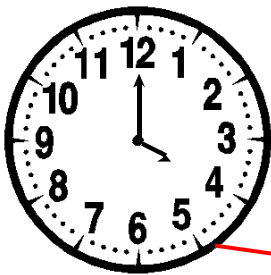


9 heures 30 : sur le 9
sur le 3
sur le 6

9 heures 15 : sur le 9
sur le 6
sur le 3

9 heures 10 : sur le 9
sur le 2
sur le 10

2) Relie chaque horloge avec son étiquette.




1 0 h 1 5

0 3 h 0 5


0 1 h 2 5

0 4 h 0 0


3) Quelle heure est-il ?




2 h 2 0



6 h 1 5



8 h 3 0



1 2 h 0 5