

UTILISER LES PIÈCES DE MONNAIE


1) Écris la somme contenue dans chaque sac.



.....




.....



.....

2) Entoure les pièces qu'il te faut pour payer ce que tu achètes.



Une glace à 1 €



Une bouteille à 2 €



UTILISER LES PIÈCES DE MONNAIE
SOLUTION


1) Écris la somme contenue dans chaque sac.



88 cents




1 euro 45 cents



5 euros 51 cents

2) Entoure les pièces qu'il te faut pour payer ce que tu achètes.



Une glace à 1 €



Une bouteille à 2 €

