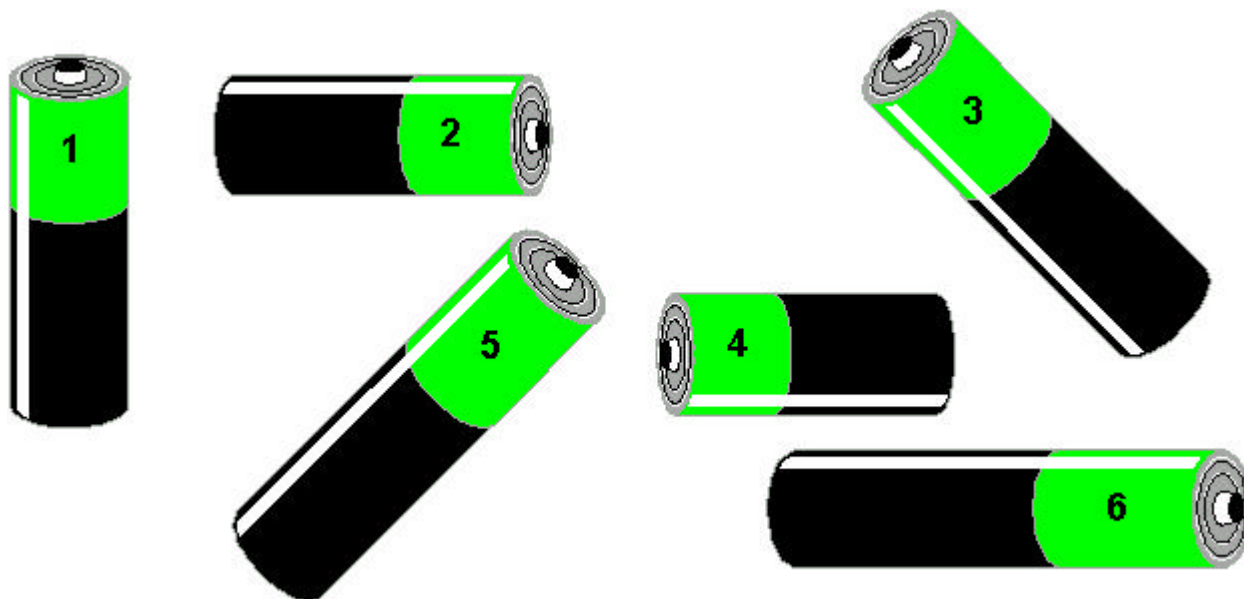



MESURER ET TRACER DES LONGUEURS

1) Range, dans le tableau, ces piles de la plus petite à la plus grande.



--	--	--	--	--	--

2) Calcule le périmètre de cette figure.



ABCD = cm

3) Trace les segments suivants.

5 cm →

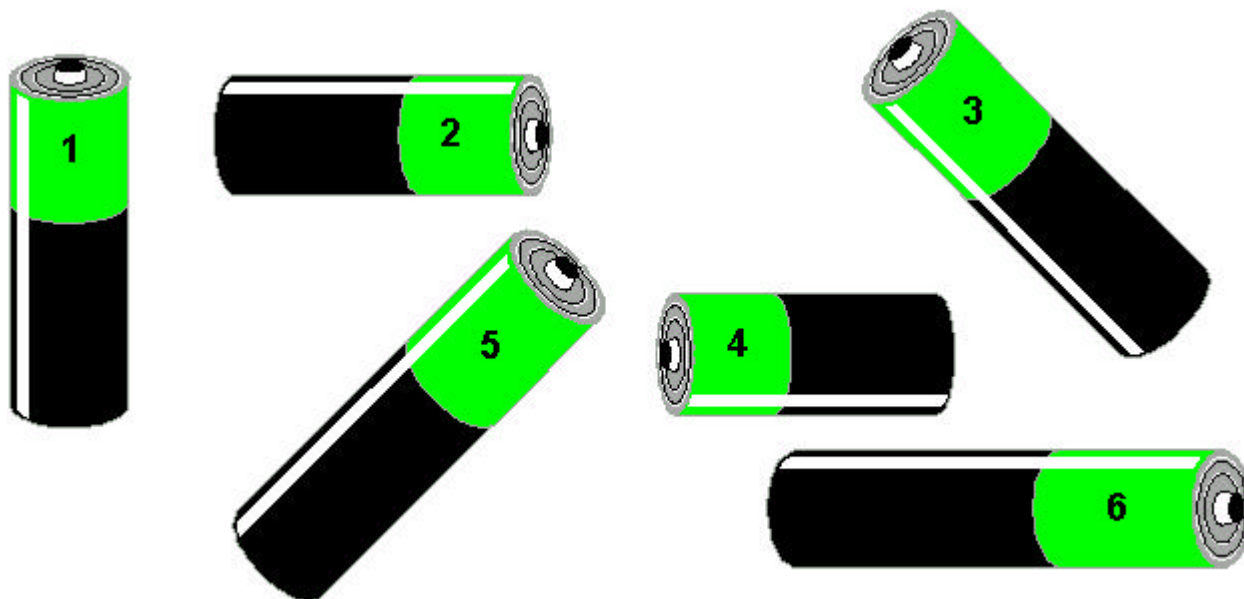
10,5 cm →

6,3 cm →

12,8 cm →


MESURER ET TRACER DES LONGUEURS
SOLUTION

1) Range, dans le tableau, ces piles de la plus petite à la plus grande.



4	2	1	3	5	6
---	---	---	---	---	---

2) Calcule le périmètre de cette figure.



$$ABCD = 10 + 2 + 10 + 2 = 24 \text{ cm}$$

3) Trace les segments suivants.

5 cm →



10,5 cm →



6,3 cm →



12,8 cm →

