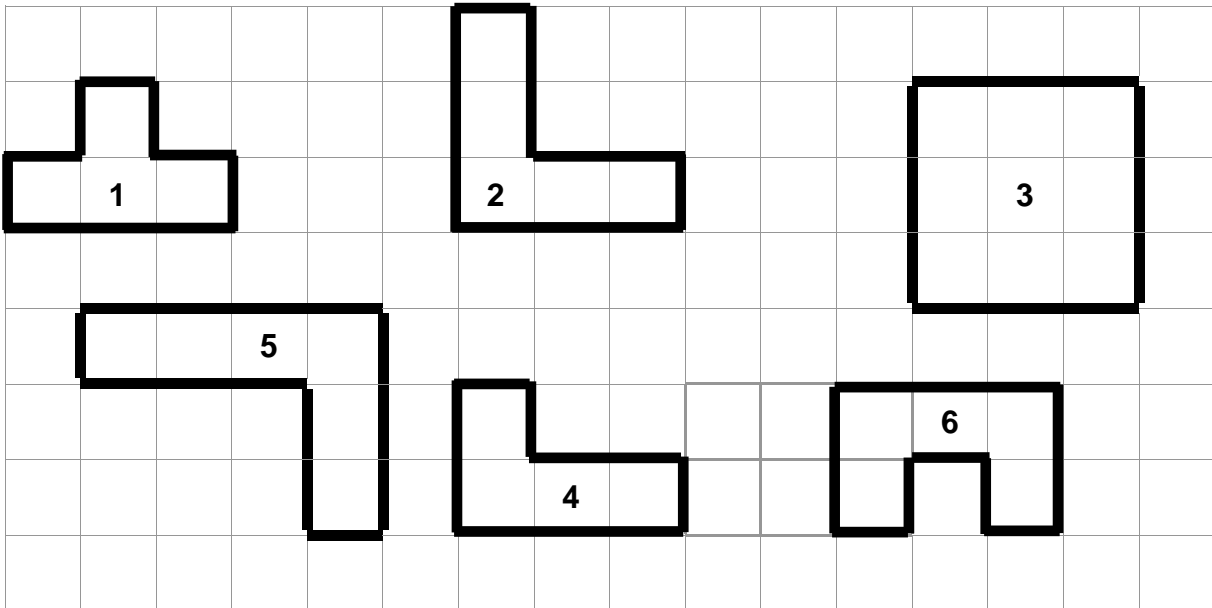



NOTION DE PÉRIMÈTRE

1) Colorie les figures qui ont le même périmètre.



2) L'âne Poitinou veut brouter toutes les fleurs qui entourent son pré. Le champ mesure 45 m de long et 23 m de large. Quelle distance doit parcourir Poitinou pour manger toutes les fleurs ?



Fais tes calculs dans ce cadre

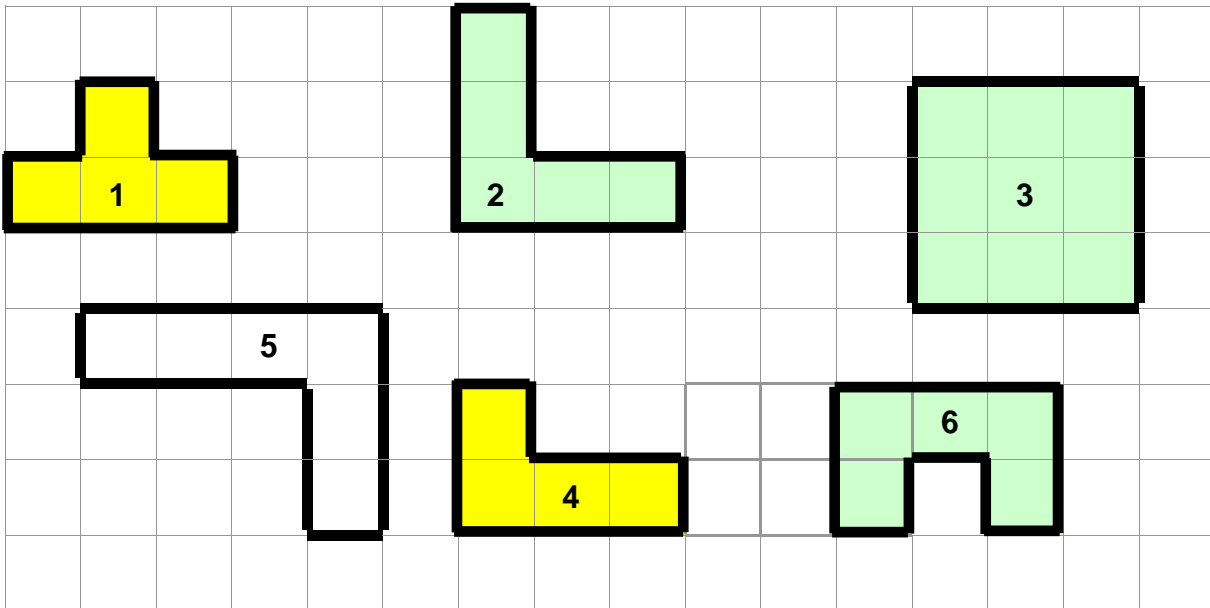
Réponse : Poitinou doit parcourir

3) Avec ton équerre, complète cette figure pour obtenir un rectangle de 20 cm de périmètre.




NOTION DE PÉRIMÈTRE
SOLUTION

1) Colorie les figures qui ont le même périmètre.



2) L'âne Poitinou veut brouter toutes les fleurs qui entourent son pré. Le champ mesure 45 m de long et 23 m de large. Quelle distance doit parcourir Poitinou pour manger toutes les fleurs ?



Fais tes calculs dans ce cadre

45	68
$+ 23$	$\times 2$
<hr style="width: 100%;"/>	<hr style="width: 100%;"/>
68	136

Réponse : Poitinou doit parcourir **136 m**.

3) Avec ton équerre, complète cette figure pour obtenir un rectangle de 20 cm de périmètre.

