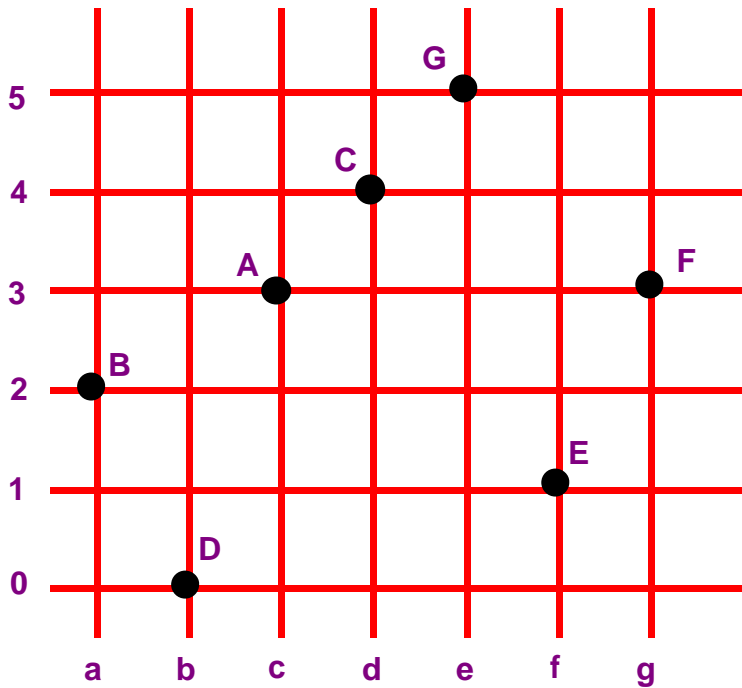


REPÉRAGE DE NŒUDS

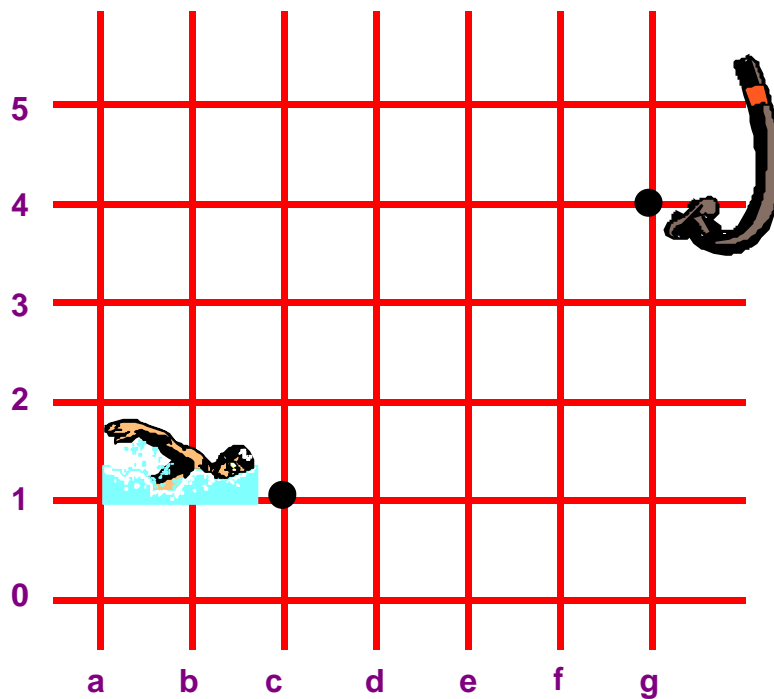
1) Écris le code des points noirs.



	code	
A	c	3
B		
C		
D		
E		
F		
G		

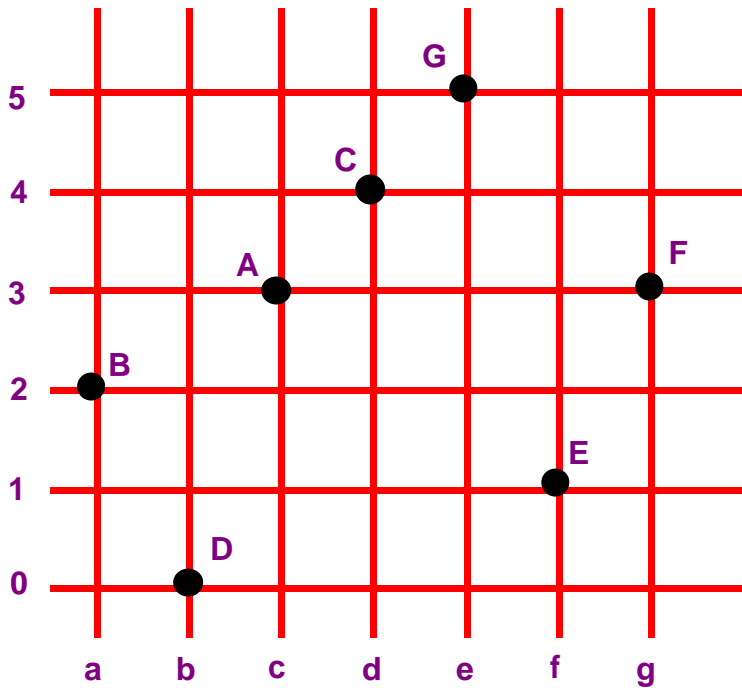
2) Trace le chemin que doit prendre Tim pour récupérer son tuba.

c 1	d 1	d 3	e 3	e 0	f 0	f 5	g 5	g 4
-----	-----	-----	-----	-----	-----	-----	-----	-----



REPÉRAGE DE NŒUDS
SOLUTION

1) Écris le code des points noirs.



		code	
A	c	3	
B	a	2	
C	d	4	
D	b	0	
E	f	1	
F	g	3	
G	e	5	

2) Trace le chemin que doit prendre Tim pour récupérer son tuba.

c 1	d 1	d 3	e 3	e 0	f 0	f 5	g 5	g 4
-----	-----	-----	-----	-----	-----	-----	-----	-----

