


## RÉSoudre UN PROBLÈME AVEC UNE MULTIPLICATION

Pour chaque problème, écris l'opération et une phrase pour la réponse.

Ce matin, Vivien va au centre aéré. Il décide d'apporter un paquet de bonbons pour en offrir aux 11 enfants qui sont dans son groupe, les Pistoleros. Après une matinée consacrée à un grand jeu de piste, Vivien distribue 15 bonbons à chaque copain ainsi qu'à lui-même.

*Combien de bonbons y avait-il dans le paquet ?*




Le dimanche, le boulanger se lève encore plus tôt que d'habitude car il doit préparer les gâteaux. Il met en moyenne 7 minutes pour faire les tartes, 5 minutes pour les gâteaux au chocolat et 10 minutes pour ceux qui sont un peu plus compliqués. Ce matin, il a fait 42 gâteaux qui coûtent 13 euros chacun.

*Combien d'argent rapporteront les gâteaux si le boulanger les vend tous ?*



Le vendeur de glaces et sa femme se sont installés sur la place du village. Mr Gelato vend des glaces depuis 25 ans. Il les fabrique lui-même et sa femme fait les cornets. Ils ont une camionnette tout équipée et vont rester tout le mois de juillet. L'an dernier, ils ont vendu environ 65 glaces par jour. Ils pensent en faire autant cette année.

*Combien de glaces vendront-ils cette année ?*



RÉSoudre UN PROBLÈME AVEC UNE MULTIPLICATION  
**SOLUTION**


Pour chaque problème, écris l'opération et une phrase pour la réponse.

Ce matin, Vivien va au centre aéré. Il décide d'apporter un paquet de bonbons pour en offrir aux 11 enfants qui sont dans son groupe, les Pistoleros. Après une matinée consacrée à un grand jeu de piste, Vivien distribue 15 bonbons à chaque copain ainsi qu'à lui-même.

*Combien de bonbons y avait-il dans le paquet ?*

$$15 \times 12 = 180$$

Il y avait **180 bonbons** dans le paquet.



Le dimanche, le boulanger se lève encore plus tôt que d'habitude car il doit préparer les gâteaux. Il met en moyenne 7 minutes pour faire les tartes, 5 minutes pour les gâteaux au chocolat et 10 minutes pour ceux qui sont un peu plus compliqués. Ce matin, il a fait 42 gâteaux qui coûtent 13 euros chacun.

*Combien d'argent rapporteront les gâteaux si le boulanger les vend tous ?*

$$42 \times 13 = 546$$

Les gâteaux rapporteront **546 euros**.



Le vendeur de glaces et sa femme se sont installés sur la place du village. Mr Gelato vend des glaces depuis 25 ans. Il les fabrique lui-même et sa femme fait les cornets. Ils ont une camionnette tout équipée et vont rester tout le mois de juillet. L'an dernier, ils ont vendu environ 65 glaces par jour. Ils pensent en faire autant cette année.

*Combien de glaces vendront-ils cette année ?*

$$65 \times 31 = 2015$$

Ils vendront **2 015 glaces** cette année.

